

Ponedeljek, 25. 5. 2020 (3 ure)

MAT

Ponavljanje in utrjevanje (Dodatek za matematiko, str. 58 in 68)

Glej PRILOGO_MAT

SLJ

Poprava preverjanja znanja (DL PREVERI svoje znanje)

- Poišči delovni list PREVERI SVOJE ZNANJE, ki si ga reševal v petek.
- Danes **preglej pravilnost svojih rešitev**. Vse, kar si napisal narobe, pravilno zapiši v zvezek za SLJ pod naslovom **Poprava preverjanja znanja**.

Glej PRILOGO_SLJ

DOD. pouk

Pridevniki v besedilu

Glej PRILOGO_dodatni pouk

PRILOGA_MAT

Rešitve str. 58

1. Dopolni preglednico. V prazne prostore napiši račune deljenja in jih izračunaj.

:	382	694	907
19	20, ost. 2	36, ost. 10	47, ost. 14
42	9, ost. 4	16, ost. 22	21, ost. 25
67	5, ost. 47	10, ost. 24	13, ost. 36
85	4, ost. 42	8, ost. 14	10, ost. 57

Ponovimo

1. Seštej oz. odštej.

$$\begin{array}{r} 97826 \\ + 163091 \\ \hline 260917 \end{array} \quad \begin{array}{r} 516017 \\ - 467937 \\ \hline 48080 \end{array} \quad \begin{array}{r} 691607 \\ - 57217 \\ \hline 634390 \end{array} \quad \begin{array}{r} 801376 \\ - 19721 \\ \hline 781655 \end{array} \quad \begin{array}{r} 407067 \\ + 68139 \\ \hline 475206 \end{array}$$

2. Zmnoži oz. deli.

$$\begin{array}{r} 3497 \cdot 54 \\ \hline 188838 \end{array} \quad \begin{array}{r} 8094 \cdot 98 \\ \hline 793212 \end{array} \quad 4327 : 19 = 227 \text{ ost. } 14 \quad 9873 : 47 = 210 \text{ ost. } 3 \quad 5706 : 65 = 87 \text{ ost. } 51$$

3. Reši enačbi oz. neenačbi.

$$\begin{array}{l} 5 \cdot x = 35 \\ x = 7 \end{array}$$

$$\begin{array}{l} x - 856 = 87 \\ x = 943 \end{array}$$

$$\begin{array}{l} y - 8 \leq 2 \\ \text{Rešitve: } 8, 9, 10 \end{array}$$

$$\begin{array}{l} x : 3 > 4 \\ \text{Rešitve: } 15, 18, 21, \dots \end{array}$$

4. Izračunaj.

$$27 - 15 : 3 = 22 \quad 54 : (8 + 1) + 3 \cdot 2 = 12$$

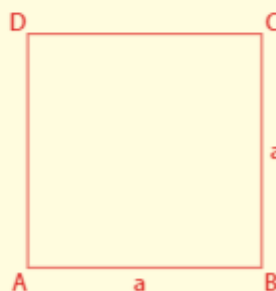
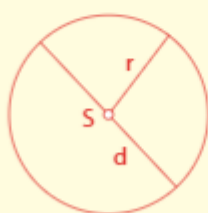
$$6 \cdot 8 + 12 : 4 = 51 \quad (4 + 5) \cdot 5 - 2 \cdot 4 = 37$$

$$7 \cdot 5 + 2 \cdot 9 - 9 = 44 \quad 3 \cdot (2 - 1) + 0 : 4 = 3$$


$$4 \cdot 2 - 8 + 7 \cdot 0 = 0 \quad 42 - (12 + 7) + 12 : 6 = 25$$

$$9 \cdot 6 + 1 - 3 \cdot (5 - 2) + 48 : (9 - 1) = 52$$

5. Nariši krožnico s polmerom 17 mm, kvadrat s stranico 4 cm ter pravokotnik s stranicama 5 cm in 3 cm. Krožnici označi polmer in premer. Izračunaj obseg in ploščino kvadrata in pravokotnika.



$$\begin{array}{l} o = 16 \text{ cm} \\ p = 16 \text{ cm}^2 \end{array}$$



$$\begin{array}{l} o = 16 \text{ cm} \\ p = 15 \text{ cm}^2 \end{array}$$

1. Preberi besedilo. V njem podčrtaj samostalnike.

Travo je prekril sneg. Tudi mačehe so pod debelo snežno odejo. Maček zaman skuša splezati na drevo.

Na njem je ptičja krmilnica. V njej je veselje. Sinice, vrabci in kosi zobajo semena. Ko sonce obsije okna hiše na vtu, se prebudita Jaka in Mina. Pogledata skozi okno in na klopi pod drevesom zagledata smuči. Kakšna sreča, da jih nihče ni odnesel!

2. Dopolni preglednico.

ednina	dvojina	množina	spol
človek	človeka	ljudje	Moški spol
konj	konja	konji	Moški spol
veja	veji	veje	Ženski spol
smreka	smreki	smreke	Ženski spol
kepa	kepi	kepe	Ženski spol
kolo	kolesi	kolesa	Srednji spol
važič	važiča	važiči	Moški spol

3. Na črte napiši besedo **je** ali **so**.

Olje **je** razlito po avtu.

Moja sončna očala **so** okrogla.

Markove hlače **so** strgane.

Sadje **je** zdravo.

Otroštvo **je** lepo in zabavno.

Smuči **so** nove.

4. Popravi napake. Napačno besedo prečrtaj in popravljene povedi napiši na črto.

Na vrtu so štiri drevo. Na vrtu so štiri **drevesa**.

Drevesa je golo. Drevesa **so gola**.

Na sredi je hiša, ki ima dva velika in 2 majhni okni. Na sredi je hiša, ki ima **dve veliki** in dve majhni okni.

Vrata hiše je zelene barve. Vrata hiše **so** zelene barve.

Pred hišo so dva psi. Pred hišo **sta** dva **psa**.

Vsak ima dve kost. Vsak ima dve **kosti**.

5. **V vsaki vrstici prečrtaj besedo, ki ni samostalnik.**

- Bratranec, kdaj, sobota, krivica
- Bogastvo, palačinke, takoj, čoln
- Mladost, svet, sreča, enajst
- Vulkan, hitro, planet, jagoda

6. **Pojasni, zakaj je samostalnik PRST ženskega in moškega spola.**

Prst kot zemlja, v katero posadimo sadike, je ženskega spola. Prst kot del roke je moškega spola. Prst je večpomenka.

7. **Dopolni besedilo s pridevniki v oklepajih.**

Maks je bil **vesel** (vesel), ko je zagledal prijatelje iz Prekmurja. Že med taborom v Tamarju so postali **dobri** (dober) prijatelji. Vsi **nasmejani** (nasmejan) so se objemali in pozdravljali. Bili so **presrečni** (presrečen), ker so se srečali. Toliko **zanimivih** (zanimiv) stvari so si morali povedati. Dogajale so se jim tudi **pomembne** (pomemben) stvari.

8. **Pridevnike vpiši na ustrezno mesto v preglednici.**

rdeča posoda, poletna obleka, star štedilnik, sončna ura, tetin krožnik, mamina denarnica, okusna večerja, sosedova hči, kopalni plašč, cestno kolo

Vrstni pridevniki	Lastnostni pridevniki	Svojilni pridevniki
poletna	rdeča	tetin
sončna	star	mamina
kopalni	okusna	sosedova
cestno		

9. **Iz zemljepisnega lastnega imena izpelji pridevnik in z njim dopolni poved.**

Pri nas so najstarejše (BLOKE) **bloške** smuči. Slap Savica je (BOHINJ) **bohinjska** znamenitost. Med ribami je zaščiten tudi (SOČA) **soška** postrv. Po vsem svetu poznana čebela je (KRANJ) **kranjska** sivka.

10. **Številki in besede v oklepajih zapiši s pisanimi črkami.**

Naša ulica šteje (26) **šestindvajset** hiš. Imenuje se (ŠOLSKA ULICA) **Šolska ulica**. Vsako jutro težko čakamo (GOSPOD) **gospoda** Franca, ki raznaša časopis. Točno ob (7.) **sedmi** uri prinese (DELO) **Delo**. Brat prebere (ŠPORTNA STRAN) **športno stran**, (MIHA) **Miha** namreč zanima šport. (MINA) **Mina** prebere program. Komaj čaka, da bo na sporedu poljudnoznanstvena oddaja (ŽIVLJENJE V DIVJINI) **Življenje v divjini**.

Potem časopis dobim jaz. Berem različne stvari. Zelo zanimiv je bil potopis o (CIPER) **Cipru**. Prebral sem, da so si učenci v (CERKNICA) **Cerknici** ogledali (CERKNIŠKO JEZERO) **Cerkniško jezero**. Videli so tudi veliko (CERKNIŠKA ZNAMENITOST) **cerkniških znamenitosti**.

PRILOGA_dodatni pouk

Na črte pred samostalnikmi vstavi poljubne pridevnike glede na sliko.



Pravljica o _____ čarovnici.

Nekoč je živela _____ čarovnica. Vsako _____ jutro si je najprej umila _____ zobe, pojedla _____ kruh in popila _____ čaj. Oblekla se je v _____ obleko, na _____ noge je nataknila _____ čevlje, na _____ glavo pa si je posadila _____ klobuk. Potem je zajahala _____ metlo, ki je imela _____ ročaj in _____ ščetine.

Potovala je nad _____ vasmi in _____ mesti, iskala je _____ otroke, ki so se igrali pred _____ hišami. Kadar je katerega zagledala, je iz _____ malhe, ki jo je imela na _____ hrbtu, potegnila _____ palico, z njo zamahnila in pričarala _____ darilo za otroka. Bila je res _____ čarovnica.

Nariši takšno čarovnico, kot si jo opisal.

Na črte pred samostalniki vstavi poljubne pridevnike glede na sliko.



Pravljica o _____ čarovnici.

Nekoč je živela _____ čarovnica. Vsako _____ jutro si je najprej umila _____ zobe, pojedla _____ kruh in popila _____ čaj. Oblekla se je v _____ obleko, na _____ noge je nataknila _____ čevlje, na _____ glavo pa si je posadila _____ klobuk. Potem je zajahala _____ metlo, ki je imela _____ ročaj in _____ ščetine.

Potovala je nad _____ vasmi in _____ mesti, iskala je _____ otroke, ki so se igrali pred _____ hišami. Kadar je katerega zagledala, je iz _____ malhe, ki jo je imela na _____ hrbtu, potegnila _____ palico, z njo zamahnila in pričarala _____ darilo za otroka. Bila je res _____ čarovnica.

Nariši takšno čarovnico, kot si jo opisal.