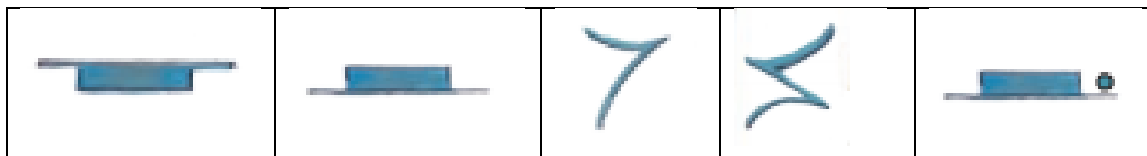


PAVZE



1. V delovnem zvezku na str. 48 poglej in zapiši koliko merijo posamezne pavze.



četrtingska pavza meri _____ dobo.



polovinska pavza meri _____ dobi.



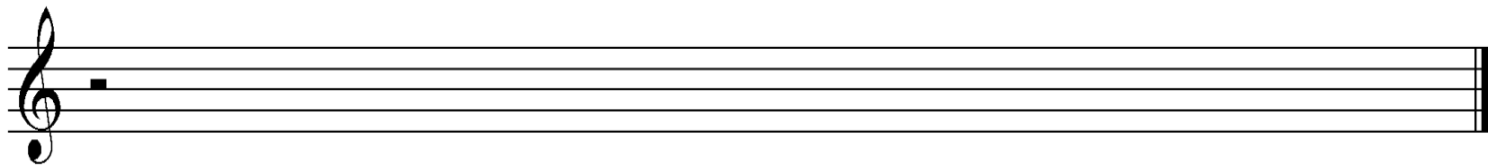
celinska pavza meri _____ dobe.




polovinska pavza s piko meri _____ dobe.

2. V črtovje nariši celo vrsto pavz:


a.) POLOVINSKA PAVZA – leži na 3. črti




b.) OSMINSKA PAVZA – začneš v 3. praznini in potuješ do 2. črte
(Osminska pavza je podobna številki 7)



c.) CELINSKA PAVZA – visi iz 4. črte



3. Sestavi svojo ritmično vajo. Uporabi čim več različnih notnih vrednosti in pavz. Vsak takt mora imeti 4 dobe.



4. Ponovi naslednje pesmi:

1. JAZ SEM VODOVNIK JURIJ (str. 37)
2. PLES KRALJA MATJAŽA (str. 38)
3. PESEM POVODNEGA MOŽA (str. 41)
4. KLIPETI MLIN (str. 42)
5. LEPA ANKA (str. 44)