

26. 3. 2020

Pozdravljen!

Doma čas res teče malce počasneje, a glej ga zlomka, spet je tu petek. Kakor kaže, nas čaka še kar nekaj časa takšnega pouka. Upam, da si se uspel nekako organizirati in da ti to ne povzroča prevelikih skrbi. Naj te potolažim, da je tudi meni že pošteno zoprno biti ves čas doma in veliko raje bi vas poučevala v šoli.

A kaj moremo?

Bomo zmogli? BOMO, JA!



Če si prebral kakšno knjigo za bralno značko, se lahko posnameš in mi pošlješ.

Hitro se zaženi še v te naloge, potem pa te čaka malo oddiha.

Pozdravček

učiteljica Melita

P.S.: Pokukaj v kuharski kotiček.

SLOVENŠČINA - Berilo, str. 22, 23, **Milan Dekleva: Sanje imajo kape z rdečimi cofi**

Ostaniva pri poeziji.

Najprej napiši **prvih pet besed**, ki se jih v tem trenutku spomniš. Besede poveži v poved, ki ni nujno smiselna. Poved spremeni v pesemsko obliko – zapiši jo v obliki kitice (in verzov), poskusi skovati tudi kakšno rimo.

Ti je uspelo? Če je, si napisali poskus **nonsensne pesmi** oziroma **pesmi nesmiselnice**. V berilu pogledaj k literarnoteoretičnim definicijam in preberi, kaj to pomeni.

Preberi:

Milan Dekleva je slovenski pesnik, pisatelj, dramatik in publicist; piše za odrasle in mladino. Otrokom je znan predvsem po dramskih besedilih, kot so Magnetni deček, Igra o strašnem volku, Totalka odštekan dan in Bučka na Broadwayu. Spoznal boš pesem Sanje imajo kape z rdečimi cofi. Objavljena je bila v zbirki Pesmi za lačne sanjavce, ki velja za vrhunec slovenske mladinske nonsensne poezije.

Preberi ali poslušaj posnetek pesmi v interaktivnem gradivu na www.radovednih-pet.si Razumljivo in dožive to **nekajkrat glasno preberi pesem** komu od družinskih članov.

Odgovori v zvezek:

1. Sanje si včasih nadenejo kape z rdečimi cofi. Čemu to naredijo? Kam se takrat odpravijo na obisk?
2. S čim pesnik primerja sanje, kadar se nam dotaknejo lic? Katera skupna lastnost to primerjavo omogoča?
3. Kako se sanje dokončno ogrejejo? Kaj bi to lahko pomenilo?
4. Kako bi ti naslovil pesem? Zmislj si vsaj dva duhovita naslova.
5. Kako si predstavljaš sanje, napravljene v kape z rdečimi cofi? Narišite jih.

MATEMATIKA - UTRJEVAJE

- Preveri pravilnost rešenih nalog od včeraj.
- Iz različnih predmetov, ki jih imaš doma, sestavi vzorce. Poišči še kakšne simetrične predmete. Ne pozabi fotografirati.
- **Reši ZZV: str. 59**
- Igraj igrico detektiv in vajin zmnožek je ali kako drugače ponovi poštevanko. V ponedeljek začnemo s PISNIM DELJENJEM!
- Rešuj naloge najmanj 20 minut. Desno spodaj ti šteje, v kolikšnem času rešiš. Lahko postaviš rekord?
https://interaktivne-vaje.si/matematika/mat_100/racunam_do_100_deljenje.html



GLASBENA UMETNOST

Ponovi pesmico **Moj očka ima konjička dva.**

Glasbeni zapis

Najbrž že od prej veš, da note zapisujemo v notno črtovje.

Črte in praznine določajo višino not. Notno črtovje ima 5 črt, ki jih štejemo od spodaj navzgor. Notno črtovje ima 4 praznine od spodaj navzgor.

- **SDZ, str. 63**

Oglej si notni zapis in preberi, kam lahko zapisujemo note.

Začetek vsakega notnega zapisa v notno črtovje »odpira« ključ. Danes boš spoznal violinski ključ.

Oglej si zapis violinskega ključa (začetek na 2. črti, zavoj desno, zavoj levo, zavoj desno in ravna črta navzdol, ki se konča s kljukico).

Poskusi narisati violinski ključ s prstom po zraku.

- **SDZ, str. 65**

Poglej, kako zapisujemo note v notno črtovje.

Preberi, kaj so taktnice in kam zapisujemo taktovski način.

- **SDZ, str. 63**

Reši 2. nalogo.

V zvezek, kjer je notno črtovje, s številkami **označi črte in praznine. Nariši čim več violinskih ključev. Zapiši note s pravilno obrnjenimi vratovi od prve črte do zadnje črte** (pravilno obrni glavice in vratove)

ŠPORT

KAMEN, ŠKARJE, PAPIR - TELOVADBA



NAREDI TOLIKO TREBUŠNJAKOV, KOLIKOR SI STAR.



10 KRAT VISOKO SKOČI V ZRAK.



10 SEKUND ČIM HITREJE TEČI NA MESTU.



DRŽI PLANK 25 SEKUND.



NAREDI 10 POČEPOV.



NAREDI 5 SKLEC.

KUHARSKI KOTIČEK

PICA KRUHKI

SESTAVINE

- kruh ali toast
 - kečap
 - pizza šunka
 - sir
 - origano
-
- ali katere druge sestavine, ki so ti všeč


POSTOPEK

Odrežemo rezino kruha, premažemo s kečapom, čez položimo šunko, prekrijemo z rezino sira in potresemo z origanom. V segreto pečico damo za toliko časa, da se sir stopi. Lahko pa počakamo, da se malo zapeče.


DOBER TEK!



REŠITVE:



$8 + 8 + 8 = 24$
 $5 + 8 + 5 = 18$
 $4 + 4 + 8 = 16$
 $2 + 2 + 5 = 9$
 $3 + 3 \times 7 = 24$




$6 + 6 + 6 = 18$
 $8 + 4 + 8 = 20$
 $2 + 6 + 2 = 10$
 $4 + 4 - 2 = 6$
 $7 + 7 \times 4 = 35$

Stran 70

1.

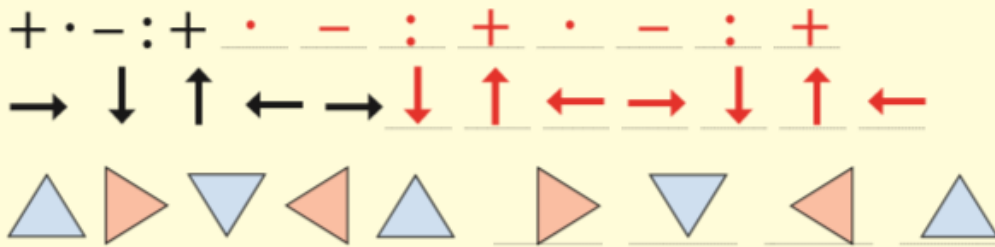


2.



Vzorci

1. Nadaljuj vzorce.



2. V vsako okence vpiši ustrezno število ali črko.

$$3 \rightarrow 6 \rightarrow 9 \rightarrow 12 \rightarrow \boxed{15}$$

$$2 \rightarrow 4 \rightarrow 6 \rightarrow 10 \rightarrow \boxed{16}$$

$$A \rightarrow C \rightarrow D \rightarrow F \rightarrow \boxed{H}$$



Bi znal še naprej nadaljevati te vzorce?

3. Neža iz zobotrebcev sestavlja like.

1. lik

2. lik

3. lik

4. lik

a) Ob tretji lik nariši četrti lik.

b) Koliko zobotrebcev bo potrebovala za 7. lik? 22

c) Ima 31 zobotrebcev. Največ koliko kvadratkov lahko sestavi po danem vzorcu? 10

4. Oglej si kroge in števila v njih. Odgovori na vprašanje.



$$\begin{aligned} 5 - 2 &= 3 \\ 7 - 4 &= 3 \\ 16 - 6 &= 10 \end{aligned}$$

Katero število bi vstavil v prazno polje tretjega kroga? 10